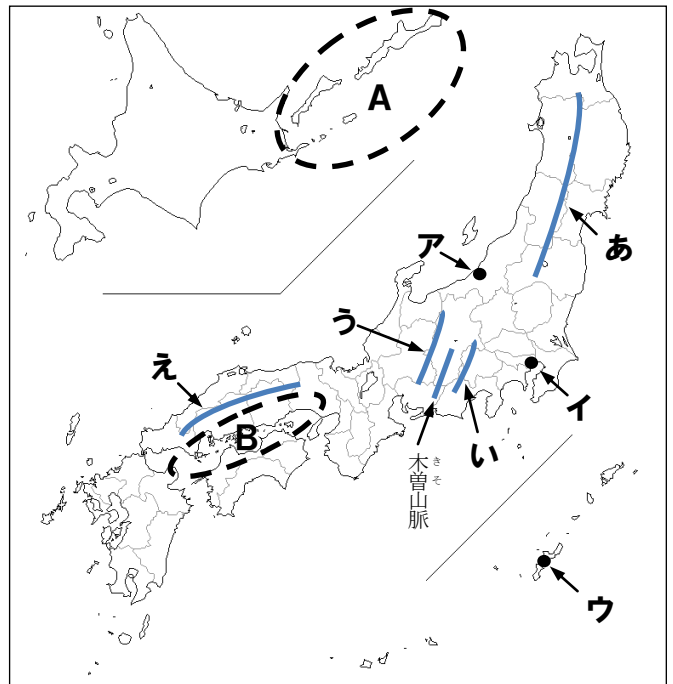


受験番号	
------	--

1 次の文章や地図を見て、下の問いに答えなさい。

日本列島は、ユーラシア大陸の東側に位置しています。南北はおよそ北緯20度から北緯46度まで、①東西は東経122度から東経154度までのはんに広がっています。日本列島は北海道・本州・四国・九州の四つの大きな島と、沖縄島や淡路島など、およそ7000の島々からなりたっています。それらの島々は弓のような形にならんでいて、②北のはしの島から③西のはしの島まで直線で結ぶと、そのきよりは約3300kmにもなります。④日本には多くの山地があり、特に中央部にはたくさんの山地が重なり合っています。また、日本の国土には四季がありますが、⑤同じ時期でも、地域によって気候に大きなちがいががあります。



問1 下線部①について、東経135度の経線が通っている県を、次のア～エから1つ選び、記号で答えなさい。

- ア 福島県      イ 兵庫県      ウ 山口県      エ 沖縄県

問2 下線部②に関連した地図中のAの地域について、次の問いに答えなさい。

(1) この地域にふくまれる島々にあてはまらないものを、次のア～エから1つ選び、記号で答えなさい。

- ア 国後島      イ 尖閣諸島      ウ 択捉島      エ 歯舞群島

(2) この地域は日本の領土とされていますが、現在はある国に占領されています。この地域を占領している国を、次のア～エから1つ選び、記号で答えなさい。

- ア アメリカ      イ 中国      ウ 韓国      エ ロシア

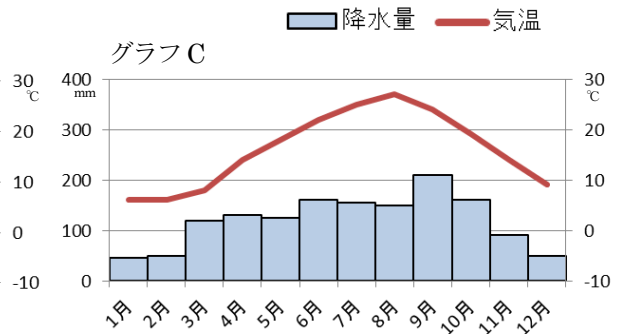
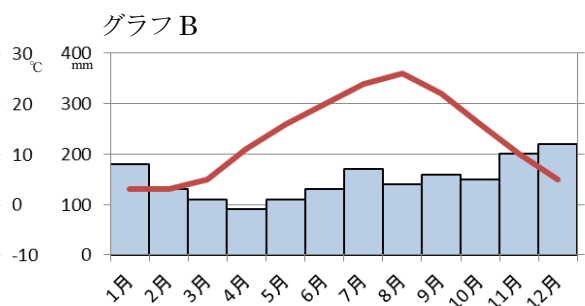
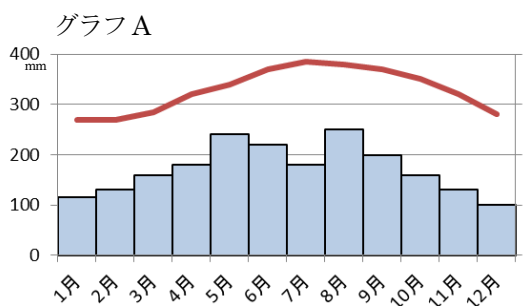
問3 下線部③について、日本の西のはしにある島を、次のア～エから1つ選び、記号で答えなさい。

- ア 与那国島      イ 竹島      ウ 沖ノ鳥島      エ 南鳥島

問4 下線部④について、地図中のあ～えの山脈や山地の名前を、それぞれ答えなさい。

問5 下線部⑤について、次の問いに答えなさい。

(1) 次のA～Cのグラフは、地図中のア～ウの都市の月別平均気温と月別平均降水量をまとめたものです。A～Cのグラフが表している都市として最も適当なものを、地図中のア～ウからそれぞれ選び、記号で答えなさい。



(2) 日本海や太平洋からふく風が日本の四季に大きな影響をあたえています。この風を何というか答えなさい。

問6 地図中のBの地域における気候は、他の地域と比べてどのような特徴がありますか。最も適当なものを、次のア～エから1つ選び、記号で答えなさい。

- ア 夏と冬の気温の差が大きい。      イ 1年を通して雨が少ない。  
ウ 冬は雨が少なく、夏はむし暑い。      エ 1年を通して雨が多く、むし暑い。

問1		問2	(1)	(2)	問3	
問4	あ	山脈	い	山脈	う	山脈
問5	(1) A	B	C	(2)	問6	
						え
						山地

2 次の①～⑤の下線部が正しければ○と答え、まちがっていれば正しい答えを書き入れなさい。

- ①日本で流域面積が最も広い川は、信濃川である。  
②第二次世界大戦後、アメリカの占領地とされた北海道は、現在も広大な土地がアメリカ軍の軍用地になっている。  
③フードマイレージは、(食料の重さ) × (輸送きより) であらわされる数であり、数が少ないほうが環境によいとされている。  
④水害や火山の噴火の被害など、危険がおよぶはんいを予測したライフラインをつくる市町村が増えてきている。  
⑤国土地理院の定めた地図記号のうち、「」は消防署を示す記号である。

①	②	③	④	⑤
---	---	---	---	---

受験番号	
------	--

3 次の写真A～Dの人物について、下の問いに答えなさい。

【A】



【B】



【C】



【D】



- 問1 Aの人物は、11世紀ごろに力を強めた人物で、「この世をば わが世ぞと思う 望月の 欠けたることも なしと思えば」という和歌にあるように、自分の思い通りに何でもできるほどの権力を得ました。この人物の名前を答えなさい。
- 問2 Aの人物をふくめて、貴族が都にもっていたやしきのつくりを何といいますか。答えなさい。
- 問3 Bの人物は、武士としてはじめて太政大臣となり、自分のむすめを天皇のきさきにして、朝廷の重要な地位を一族で独占しました。この人物の名前を答えなさい。
- 問4 Bの人物の一族と源氏の戦いとしてあてはまらないものを、次のア～エから1つ選び、記号で答えなさい。  
ア 壇ノ浦の戦い イ 長篠の戦い ウ 屋島の戦い エ くりから峠の戦い
- 問5 Cの人物は、江戸幕府の命令を受けて全国を測量して歩き、はじめて正確な日本地図をつくらうとしました。この人物の名前を答えなさい。
- 問6 Cの人物と同じころに活躍した人物と、その人物が活躍した分野の組合せとして正しいものを、次のア～エから1つ選び、記号で答えなさい。  
ア 近松門左衛門一人形浄瑠璃 イ 歌川広重一落語 ウ 杉田玄白一歌舞伎 エ 本居宣長一相撲
- 問7 Dの人物は、足尾銅山(栃木県)から流れ出た鉍毒により被害を受けた人々とともに、鉍山の操業停止と被害を受けた人々の救済を政府にうったえました。この人物の名前を答えなさい。
- 問8 Dの人物が生きた明治時代の輸入品にあてはまらないものを、次のア～エから1つ選び、記号で答えなさい。  
ア 綿花 イ 毛織物 ウ 生糸 エ 砂糖

問1		問2		問3		問4	
問5		問6		問7		問8	

4 次のA～Cの文章を読んで、下の問いに答えなさい。

- A ①豊臣秀吉の死後、勢力をのばしたのは徳川家康でした。1600年、「天下分け目の戦い」といわれる(1)の戦いで勝利した家康は、1603年に征夷大将軍となり、江戸に幕府を開きました。家康は武家諸法度というきまりを定め、これにそむいた大名を厳しく罰しました。3代将軍徳川家光は、「大名は、将軍の家来だから、1年おきに江戸に住み、将軍を守らなければならない。」として、武家諸法度に(2)の制度を加えました。これにより大名は、江戸での生活や大名行列の費用を負担させられ、妻子を人質にされることになりました。
- B 1854年に②日米和親条約を結んだ江戸幕府は、さらに1858年に日米修好通商条約を結びました。しかし、この条約では外国人が日本で罪をおかしても、日本は処罰できない(3)を認めたり、輸入品に自由に税金をかける権利を日本に認めないことが決められていました。こうした不平等な条約のもとに、200年以上も続いた日本の鎖国が終わり、やがて③明治維新という政治改革が進められました。
- C 第二次世界大戦後、1950年代のころに日本の経済は急速に発展し、④高度経済成長がはじまりました。産業の各分野では、さまざまな技術革新が進むなど日本の経済は発展し続け、1968年には、国民総生産がアメリカに次いで世界第2位になりました。1973年、サウジアラビアなどの産油国が原油価格を大幅に引き上げたことで、世界経済が混乱した(4)と呼ばれるできごとがおこり、日本の高度経済成長は終わりました。しかし、日本はその後の不景気を高い技術力でのりこえて発展し続けました。

問1 文章中の(1)～(4)に入る語句を答えなさい。

1	2	3	4
---	---	---	---

- 問2 下線部①について、豊臣秀吉がおこなった政策にあてはまらないものを、次のア～エから1つ選び、記号で答えなさい。  
ア 検地をおこなった。 イ キリスト教を禁止した。 ウ 刀狩をおこなった。 エ 2度にわたり朝鮮に大軍を送った。
- 問3 下線部②について、この条約によって開かれた港を、次のア～エから1つ選び、記号で答えなさい。  
ア 横浜 イ 長崎 ウ 下田 エ 神戸
- 問4 下線部③について、このころ活躍した薩摩藩や長州藩の人物にあてはまらないものを、次のア～エから1つ選び、記号で答えなさい。  
ア 大久保利通 イ 木戸孝允 ウ 西郷隆盛 エ 坂本龍馬
- 問5 下線部④について、このころに日本国内でふきゅうした家庭電化製品を、次のア～エから1つ選び、記号で答えなさい。  
ア テレビ イ 電子レンジ ウ ラジオ エ パソコン

問2		問3		問4		問5	
----	--	----	--	----	--	----	--