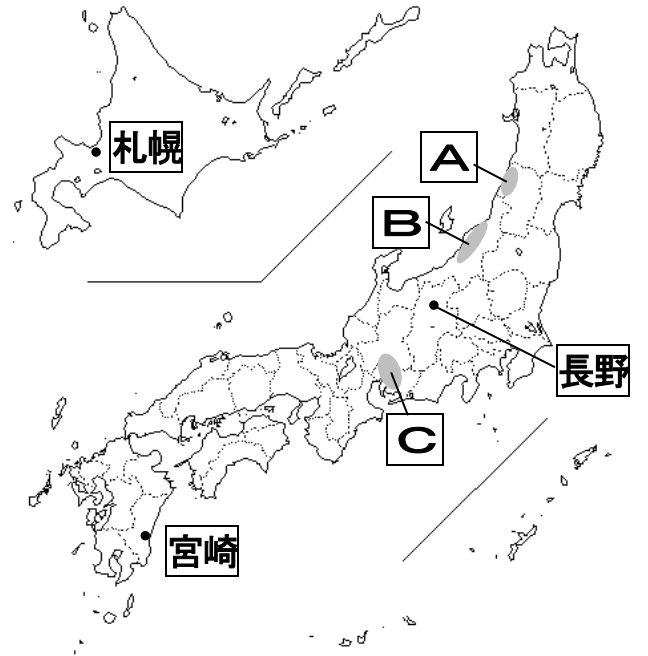


1 次の文章や図を見て、あとの問いに答えなさい。

日本では、①気温や降水量のちがいを活かした農業が、地域ごとに行われており、②新鮮で安心・安全な農産物を手に入れることができる。しかし、近年では「若者の農業ばなれ」が進み、農業をする人々が少なくなっている。

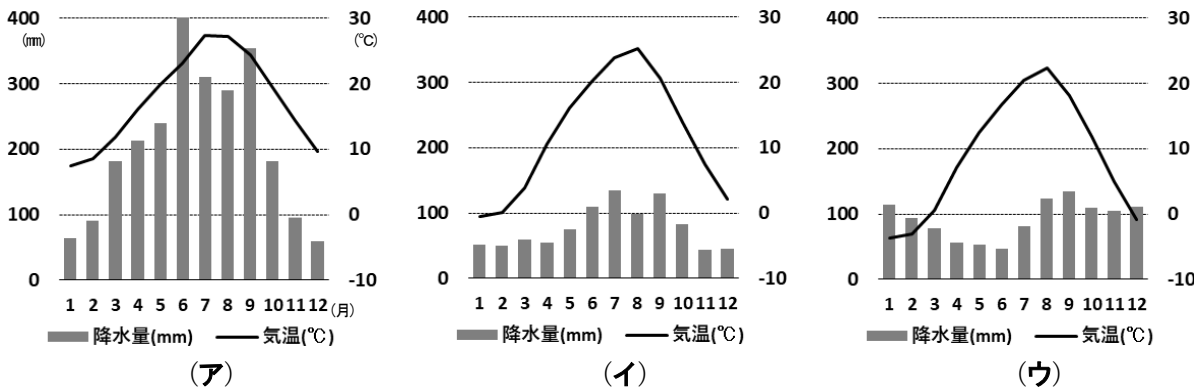
農業人口の減少によっておきる問題の1つが食料自給率の低下である。昔は国内の農業を守るために、農産物の輸入を制限していたが、国が制限をゆるめたので、より多くの農産物の輸入が行われるようになった。③海外の農産物を買うことには良い点もあるが、心配される点も多い。④食料を輸入にたよらないような工夫をしたり、農業の良さを若い人に知ってもらったりする取り組みが日本各地で行われている。



問1 右の地図中のA～Cは、米作りがさかんに行われている平野を示しています。

A～Cは何という平野ですか、それぞれ答えなさい。

問2 下線部①について、次のグラフ(ア)～(ウ)は、札幌、長野、宮崎の月ごとの平均気温と降水量をまとめたものです。各都市をあらわすグラフとして、最も適当なものをそれぞれ選びなさい。



問3 下線部②について、次の表は、だいこん、みかん、レタス、りんごの生産量が多い順に都道府県をならべたものです。りんごとだいこんを表すものを、表中のア～エからそれぞれ選びなさい。

Table with 4 columns (A, I, U, E) and 3 rows (Rank 1, Rank 2, Rank 3) showing production percentages for various prefectures.

『日本国勢図絵2019』より。数字(%)は、全国の生産量に占める割合を表しています。

問4 下線部③について、海外の農産物を買うことの良い点と心配される点を述べた文としてまちがっているものを次のア～エから1つ選びなさい。

- ア 国産の農産物よりも安い値段で買うことができる。
イ 海外は農業の規模が大きいのので、日本は常に農産物を輸入できる。
ウ 日本で使用できない農薬が使われている可能性がある。
エ 日本に輸出する食料を生産するために自然を破壊してしまうことがある。

問5 下線部④の例として「地産地消」があります。これについて説明した次の文の空らんにあてはまる言葉を答えなさい。

「地産地消」とは、遠いところから食料を運んでくるよりも、なるべく【 】食料を使おうとする取り組みです。

問6 日本の食料生産に影響を与えるといわれている、「環太平洋戦略的経済連携協定」を表す英語のアルファベット3文字を答えなさい。

Table for question 6 with columns for questions 1, 2, 3, 4, 5, 6 and corresponding answers (A, B, C, etc.).

2 次の①～⑤の文を読んで、下線部が正しければ○と答え、まちがっていれば正しく書き直しなさい。

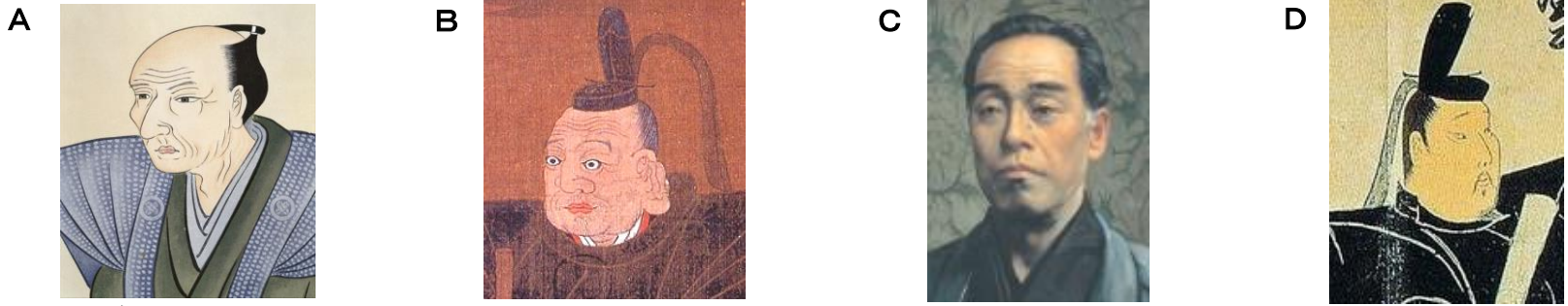
- ① 北極点と南極点から、ともに等しい距離にある点をむすんだ線を赤道といい、その長さは1周約1万 kmである。
② 日本の47都道府県のうち、海に面していないものは4 県ある。
③ 農家や漁村に宿泊して自然や人々などとの交流を楽しむ活動をグリーン・ツーリズム という。
④ 「文」は、図書館をあらわす地図記号である。
⑤ 右の図は、イギリスの国旗である。



Table for question 2 with columns for questions 1, 2, 3, 4, 5 and corresponding answers (circles or corrected text).

受験番号	
------	--

3 歴史上の人物に関する次の絵や写真A～Dを見て、あとの問いに答えなさい。



問1 Aは50歳を過ぎてから西洋の天文学や測量術を学び、はじめて正確な日本地図をつくらうとした人物です。次の問いに答えなさい。

- (1) Aの人物の名前を答えなさい。
- (2) Aの人物のころに、子どもたちが「読み・書き・そろばん」など、日常生活や商品の取り引きに必要なことを学んだ塾は何ですか。
- (3) Aの人物と同じころに活躍した人物として**まちがっているもの**を、次のア～エから1つ選び、記号で答えなさい。

ア 本居宣長 イ 杉田玄白 ウ 渋沢栄一 エ 前野良沢

問2 Bは1603年に征夷大將軍となり、江戸に幕府を開いた人物です。次の問いに答えなさい。

- (1) Bの人物の名前を答えなさい。
- (2) Bの人物が1600年に勝利した「天下分け目の戦い」といわれる戦いの名前を答えなさい。
- (3) Bの人物が活躍した江戸時代にあった出来事として**まちがっているもの**を、次のア～エから1つ選び、記号で答えなさい。

ア 天草四郎を中心に、島原・天草の一揆が起こった。 イ 参勤交代の制度を取り決めた。
ウ 朝鮮通信使と呼ばれる使節が、将軍がかわるごとに来日した。 エ 近松門左衛門が、浮世絵『東海道五十三次』を完成させた。

問3 Cは下級武士の子どもでしたが、欧米にわたり、『学問のすゝめ』を書くなど教育者として活躍した人物です。次の問いに答えなさい。

- (1) Cの人物の名前を答えなさい。
- (2) Cの人物のころには、くらしのなかにも欧米の制度や生活様式が取り入れられ、人間の自由や権利を尊重する考えも広がりはじめました。こうした世の中の動きを何といいますか。
- (3) Cの人物が活躍した明治時代初めごろの政治や社会の改革として正しいものを、次のア～エから1つ選び、記号で答えなさい。

ア 大名がこれまで治めていた領地や領民を天皇に返させる廃藩置県を行った。
イ 25歳以上の男子に3年間軍隊に入ること義務付けた徴兵令を出した。
ウ 地租改正により、不作や豊作に関係なく決まった量のお米を税として納めさせた。
エ 身分制が廃止され、もとの百姓や町人などにも名字が許された。

問4 Dは武士としてはじめて太政大臣となり、中央の政治を行った人物です。次の問いに答えなさい。

- (1) Dの人物の名前を答えなさい。
- (2) Dの人物は1159年、源頼朝の父義朝をうち破り、朝廷内における力を強めました。この戦いの名前を答えなさい。
- (3) Dの人物が活躍した平安時代に生まれたものとして**まちがっているもの**を、次のア～エから1つ選び、記号で答えなさい。

ア 寝殿造 イ かな文字 ウ 大和絵 エ 人形浄瑠璃

問5 A～Dの人物が活躍した時代を年代の古い順に並べ、記号で答えなさい。

問1	(1)	(2)	(3)	問2	(1)	(2)
問2	(3)	問3	(1)	(2)	(3)	
問4	(1)	(2)	(3)	問5	→	→

4 右の年表を見て、あとの問いに答えなさい。

問1 下線部①の条約では、外国人が日本で罪をおかしても、日本では処罰できないことが決められました。このことを何といいますか。漢字4字で答えなさい。

問2 下線部②をきっかけに、立憲改進黨という政党をつくった人物の名前を答えなさい。

問3 下線部③に関する内容として正しいものを、次のア～エから1つ選び、記号で答えなさい。

ア 憲法の草案は、板垣退助が中心となってつくった。
イ 国を治める主権は国民がもつことになった。
ウ 国会は衆議院と参議院に分かれていた。
エ 制限はあったが、言論や出版の自由が国民に認められた。

問4 下線部④のときにアメリカと交渉を行った外務大臣を、次のア～エから1つ選び、記号で答えなさい。

ア 野口英世 イ 陸奥宗光 ウ 小村寿太郎 エ 東郷平八郎

問5 次のできごとは、年表中のA～Eのどの時期のことですか。それぞれ記号で答えなさい。

- (1) 沖縄がアメリカから日本に復帰する。
- (2) 湯川秀樹が日本人として初めてノーベル賞物理学賞を受賞する。

年	できごと
1858年	①日米修好通商条約を結ぶ。
	A
1881年	政府が、②10年後に国会を開くことを国民に約束する。
	B
1889年	③大日本帝国憲法が公布される。
	C
1911年	④アメリカとの間で関税自主権の回復を決める。
	D
1964年	日本で初めてのオリンピックが東京で開催される。
	E

問1				問2		問3		問4		問5	(1)	(2)
----	--	--	--	----	--	----	--	----	--	----	-----	-----