

受験番号	
------	--

1 次の文章は、たろうさんとはなこさんがスーパーマーケットで買い物をしている場面の会話です。これについて下の問いに答えなさい。

たろう：買ってくるようにたのまれたものはこれで全部かな。

はなこ：あとは①牛乳ね。

たろう：牛乳の値段をたして計算すると、おつりは五円だね。


はなこ：そういえば、五円玉のおもてには日本の産業に関するものが、かかっているよね。

たろう：イネは農業、水平線は②水産業、穴の周りの歯車は③工業だね。他のお金にはどのようなものがかかっているのか気になってきたよ。

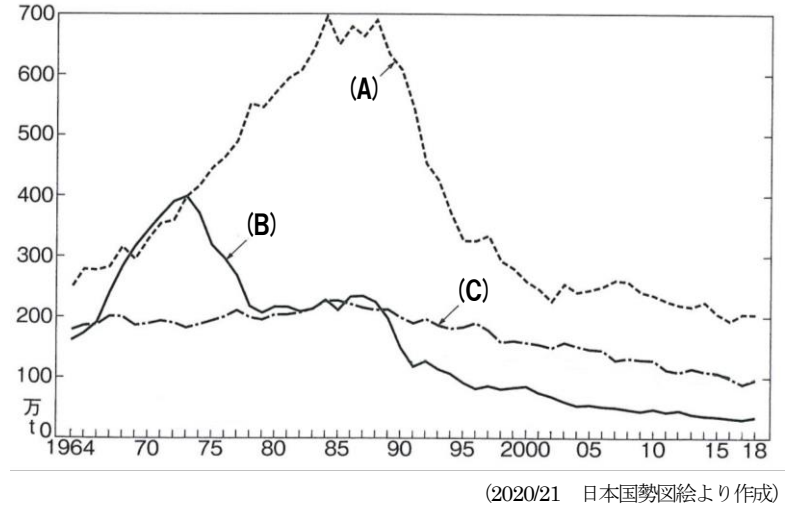
はなこ：あっ！レジぶくろが有料だったのを忘れてた！レジぶくろの値段も計算しなくちゃ。

たろう：マイバッグを持って来ているからいらないよ。

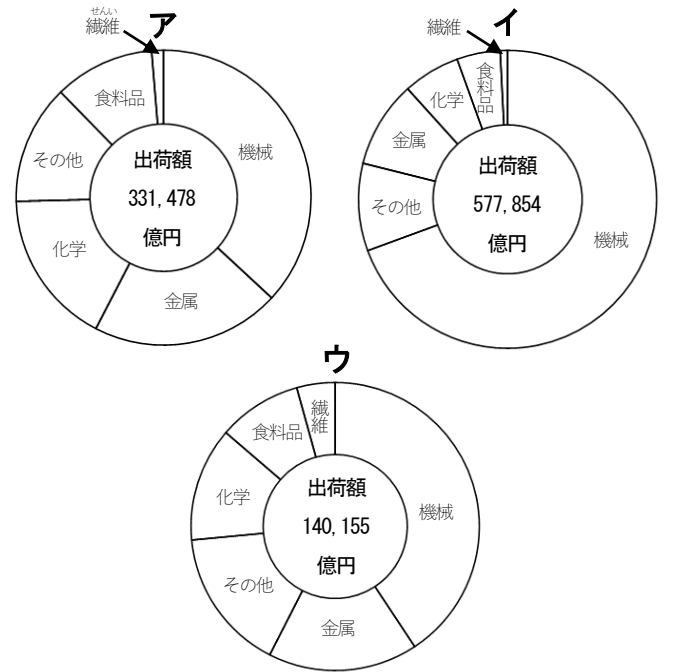
はなこ：よかった。マイバッグを使うと、お金もかからないし、④かんきょうにもやさしいし、いい気分になるね。



資料1 漁業種類別生産量の移り変わり



資料2 工業地帯・工業地域の製造品出荷額の内わけ



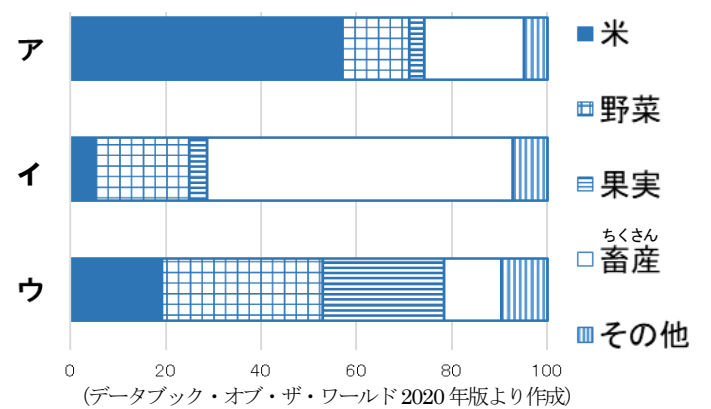
- 問1 下線部①について、乳牛を飼って、牛乳やバターなどの乳製品をつくる農業を何というか、答えなさい。
- 問2 下線部②について、下の問いに答えなさい。
- 遠くの海まで出かけ、長期間行う漁業を何というか、答えなさい。
  - (1)の漁業を表しているものを、資料1の(A)～(C)から1つ選び、記号で答えなさい。
- 問3 下線部③について、資料2のア～ウは、中京工業地帯、阪神工業地帯、北陸工業地域の製造品出荷額の内わけを示しています。3つの工業地帯・工業地域にあてはまるものとして、適当なものをそれぞれ選び、記号で答えなさい。
- 問4 下線部④について、下の問いに答えなさい。
- 空気や水、土のよごれ、そう音、悪しゅうなどによって、人びとのくらしや生命がおびやかされることを何というか、答えなさい。
  - 工場から出たけむりや、自動車の排出ガスにふくまれる有毒な物質がとけこんだ雨を何というか、答えなさい。
  - 自然や歴史的な建造物などを守るために、募金を集めて土地や建物を買い取り、保存していく運動を何というか、答えなさい。

問1		問2	(1)	(2)
問3	中京工業地帯	阪神工業地帯		北陸工業地域
問4	(1)	(2)		(3)

2 次の①～⑥の文を読んで、下線部が正しければ○と答え、まちがっていれば正しく書き直しなさい。

- 日本はユーラシア大陸の西に位置する。
- 日本は山地と平地のうち、平地の面積の方が多い。
- 日本アルプスとは、飛騨山脈・木曾山脈・奥羽山脈の3つの山脈のことである。
- 地図上で土地の高さを表すために、同じ高さのところを線で結んだものを等高線という。
- 長野県、新潟県、宮崎県の農産物生産額を示した右のグラフのア～ウのうち、宮崎県を表しているものはアである。
- 河川のこう水から家や田畑を守るために、まわりを堤防で囲んだ低地のことを水屋という。

農産物生産額の各都道府県における割合



①		②		③	
④		⑤		⑥	

3 次の文章を読んで、下の問いに答えなさい。

令和2年9月16日に、菅義偉内閣が誕生しました。内閣総理大臣の指名は、①日本国憲法に書かれているように、②国会の議決により行われました。総理大臣を中心とした内閣が行うおもな仕事は( A )などです。③国民から集めたお金を使いながら、日本の国をより良くするために政治を行います。

問1 下線部①の日本国憲法について下の問いに答えなさい。

- (1) 日本国憲法には、国会は二つの院で構成すると書かれています。この二つの院とは何か、それぞれ答えなさい。
- (2) 日本国憲法には、三つの原則があります。国民主権、平和主義、あともう一つは何か、答えなさい。

問2 下線部②について、下の文の【 】にあてはまる語句として正しいものを下のア～エから1つ選び、記号で答えなさい。

内閣総理大臣になるには条件があり、憲法には内閣総理大臣は【 】の中から国会の議決で、これを指名する、と書かれています。

- ア 国務大臣
- イ 40歳以上の日本人
- ウ 国会議員
- エ 都道府県知事

問3 文章中の( A )に入る文として、まがっているものを下のア～エから1つ選び、記号で答えなさい。

- ア 法律が憲法に違反していないかについて判断する。
- イ 外国と条約を結ぶ。
- ウ 法律案や予算案をつくって、国会に提出する。
- エ 最高裁判所の長官を指名する。

問4 下線部③について、内閣が仕事をするために国民から集めるお金のことを何というか、漢字2文字で書きなさい。

問1	(1)	院	院	(2)
問2		問3	問4	

年	できごと
5世紀頃	①仁徳陵古墳(大仙古墳)がつくられた
593年	②聖徳太子が天皇を助ける役職に就く
645年	③中大兄皇子たちが蘇我氏をたおす
701年	新しい法律を定める
724年	④聖武天皇が位につく
794年	京都に都が移される
1017年	⑤藤原道長が( A )となり天皇に代わって政治を行う

4 右の年表は、天皇中心の国づくりについてのできごとをまとめたものです。

年表を見て、下の問いに答えなさい。

問1 下線部①について、写真1のような古墳の形を何というか、答えなさい。

問2 下線部②について、聖徳太子と関係ないものを下のア～エから1つ選び、記号で答えなさい。

- ア 十七条の憲法
- イ 冠位十二階
- ウ 法隆寺
- エ 藤原京

問3 下線部③について、蘇我氏をたおした中大兄皇子たちが行った、天皇を中心とした国づくりをすすめるための改革を何というか、答えなさい。

問4 下線部④の天皇が行ったこととして正しいものを、次のア～エから1つ選び、記号で答えなさい。

- ア 菅原道真の意見を取り入れ、遣唐使の廃止を決断した。
- イ 仏教の力で社会の不安をしずめようと、東大寺の大仏づくりを行った。
- ウ 各地の人びとのようすや、地域の自然などを『風土記』に記させた。
- エ 小野妹子たちを使者として隋に送り(遣隋使)、国の交わりを結ぼうとした。

問5 下線部⑤について、下の問いに答えなさい。

- (1) 藤原道長が就いた役職名である( A )の中にあてはまる語句を書きなさい。
- (2) 資料1は藤原道長が自分の娘を天皇のきさきとし、大きな力を手に入れた時によんだ歌です。( B )にあてはまる語句を書きなさい。



写真1

この世をば  
我が世とぞ思ふ( B )の  
欠けたることも  
なしと思えば

資料1

問1		問2		問3	
問4	問5	(1)	(2)		



写真2

5 次の①～⑤の文を読んで、下線部が正しければ○と答え、まがっていれば正しく書き直しなさい。

- ① 1192年、源頼朝は朝廷から関白に任命され、武士をしたがえる最高の地位についた。
- ② 写真2は、室町時代の銀閣にも取り入れられた寝殿造のものである。
- ③ 写真3は、室町時代に水墨画を完成させた雪舟の「天橋立図」である。
- ④ 1582年、織田信長は中国地方の戦いに向かうとちゅう、本能寺で武田信玄に攻められ、自ら命を絶った。
- ⑤ 江戸時代において全国の大名家が、自分の領地と江戸を一年おきに行き来する制度を御恩と奉公という。



写真3

①		②	
③		④	⑤